

#5. Choisis 2 chiffres pour faire un nombre qui convient.

$\boxed{1-2-0-5}$ $12 > .$ $\boxed{3-2-5-6}$ $25 > .$ $\boxed{4-5-8-0}$ $45 > .$

N.B. La bouche s'ouvre toujours sur le plus grand nombre la pointe est toujours sur le plus petit.


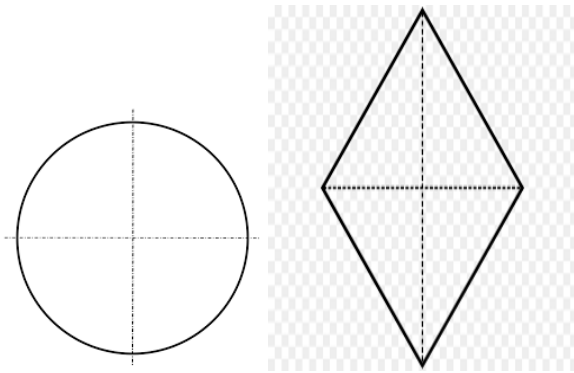
#8. Range les nombres de plus petit au plus grand.

67 – 28 – 40 – 12 – 32

--	--	--	--	--

N.B. Pour ranger les nombres du plus petit au plus grand, on commence toujours par le plus petit nombre.

#3. Colorie le quart de chaque figure.



N.B : Un quart c'est une partie des 4 quarts.

Le rester des exercices à travailler.

#3. Ecris le nombre qui a une dizaine de moins et une dizaine de plus.

25	<	35	<	45		2	<	12	<	22
33	<	43	<	53		47	<	57	<	67
.	<	51	<	.		.	<	34	<	.
.	<	47	<	.		.	<	29	<	.
.	<	28	<	.		.	<	13	<	.
.	<	59	<	.		.	<	46	<	.

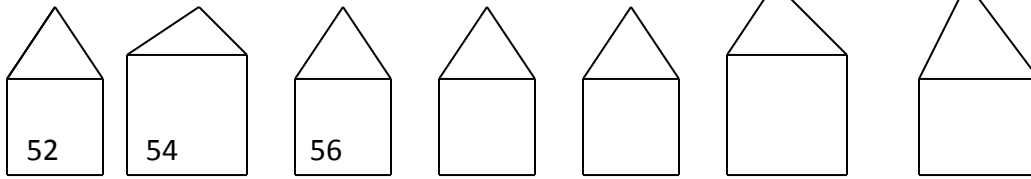
Le reste à travailler.

#5. Dans chaque colonne entoure le nombre qui a le plus grand chiffre des dizaines.

43	19	27	38
58	57	14	61
34	33	46	57
62	40	22	19

Remarque : Le chiffre des dizaines se trouve toujours à gauche.

#1. Anita habite au numéro 62. Entoure la maison d'Anita.



#4. Ecris à chaque fois le nombre qui a une unité de plus.

46

51

29

39

60

9

#6. Ecris à chaque fois le nombre qui a une dizaine de plus.

18

49

30

59

10

27

#9. Choisis 2 chiffres pour former le nombre le plus grand possible.

4 - 1 - 6 - 5

5 - 0 - 3 - 4

6 - 1 - 3 - 2

Maths p100 à 104 à travailler.

Langage page 56-57

Situation de communication.

Les personnages : Mona, Manuel, la maman, et les trois marchandes.

Le lieu : Au marché

La scène : La maman de Mona envoie sa fille faire des achats au marché. Manuel veut accompagner sa sœur il portera le panier. Mona achète du poisson et des mangues. Lors du dernier achat, les enfants s'aperçoivent que le poisson a disparu du panier. Un chat a volé le poisson.

Image 1

Où ça se passe ?

Ça se passe dans la rue, je vois la maman, Mona et Manuel.

Maman dit : Mona va au marché.

Mona pose une question : Oui maman, qu'est-ce que j'achète ?

Maman répond : Des fruits, du poisson et 2 marmites de riz.

Manuel dit : Moi aussi, je vais au marché. C'est moi qui prends le panier.

Image 2

Où ça se passe ?

Ça se passe au marché, je vois Mona, Manuel et la marchande.

Mona pose une question elle dit : Bonjour madame ! Combien il coûte le poisson ?

La marchande répond : 30 gourdes seulement.

Mona dit : Alors je voudrais 1 poisson.

Manuel dit : C'est moi qui porte le panier.

Image 3

Où ça se passe ?

Ça se passe au marché, je vois Mona, Manuel, la marchande de fruit et un chat.

La marchande dit : Regardez mes beaux fruits ! Ils ne sont pas chers.

Manuel dit : J'aime les mangues. Achète des mangues, Mona

Mona dit : Madame 6 mangues s'il vous plaît.

Manuel dit : C'est moi qui porte les fruits.

Image 4

Où ça se passe ?

Ça se passe au marché, je vois Mona, Manuel, la marchande.

Mona dit : Manuel, donne le panier.

Manuel répond : Tiens !

Mona pose une question : Mais où est le poisson ?

Manuel répond : Oh ! Je ne sais pas. C'est moi qui porte le panier, je ne peux pas surveiller le poisson.

Grammaire (bien écrire p67)

#30. Remplace les points par : bonjour, soif, course, bonsoir.

le matin, gustave va dire à la marchande.

le soir, pascal va dire à marguerite.

gaston va boire du kola quand il a

Page 68

#34. Autodictée

C'est un **miroir**

c'est une **fourmi**

C'est un **tiroir**

c'est une **bourse**

C'est une **moustache**.

#35. Remplace les points par : lumière, cassave, portière, rivière, onzième, douzième.

Liliane a acheté une c- justin a vu une l sur le morne.-

Marguerite lave sa robe à la r- ludovic a tiré la p de la voiture.-

Pascal a été le d à la course.- saturnin a été le o

#37. Autodictée

C'est une **fiolle**

c'est un **piéton**

voici une **cafetière**

Je vois une **radio**

c'est une **pioche**

Leçons pour la semaine

Youpi p 58 à 69

Dictée p 11 #22 et 23

Catéchèse p 23 #6 et 7

Eveil sciences p 44 à 47 je retiens + les exercices à travailler.

Eveil histoire p 32 et 37 à revoir.

Maths p 95 à 104 à bien travailler.

Compte de 10 en 10 de 0 à 60.